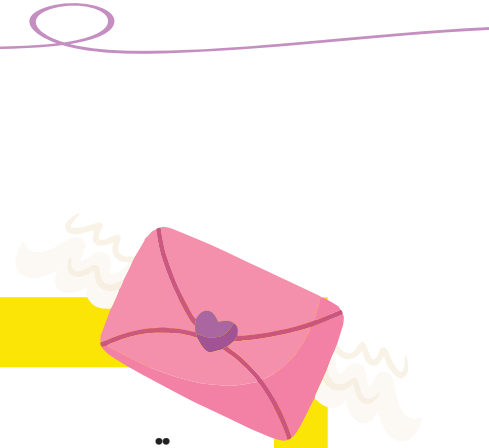



پایه اول دبستان
ورودی به پایه دوم

شادمان شادمان





مقدمه

این کتاب به منظور تسهیل و تقویت دروس فواید شده و یادآوری مطالب آموخته شده و جبران کاستی‌ها و آشنایی مفصلی با مطالب پایه‌ی دوم در قالب انواع سؤالات و تمرین‌های هدف‌دار، تدوین گردیده است. مطالب و محتوای آن مطابق با نیاز مفادبینی است که پایه‌ی اول را به پایان رسانده‌اند.

دروس فارسی، ریاضی، علوم و روان‌فوانی و املا و جدول و سرگرمی به شکل‌های گوناگون و بر اساس زندگی روزمره ارائه شده و در پایان هر قسمت جهت ارزشیابی از آموخته‌ها سؤالات چهارگزینه‌ای تدوین گردیده است.

امید است با طراحی این کتاب ضمن یادآوری مطالب آموخته شده بتوانیم سطح علمی دانش‌آموزان را ارتقاء بخشیم.



در هر قسمت نام نشانه ها را بگو و اسم آن ها را بنویس.

فف

.....

قق

.....

کک

.....

گگ

.....

ل ل

.....

مم

.....

نن

.....

و

.....

ه ه ه

.....

یی

.....

ر

.....

ز

.....

ژ

.....

سس

.....

شش

.....

صص

.....

ضض

.....

ط

.....

ظ

.....

ع ع ع

.....

غ غ غ

.....

آ آ

.....

بب

.....

پپ

.....

تت

.....

ثث

.....

جج

.....

چچ

.....

حح

.....

خخ

.....


د

.....

ذ

.....





☆ به عدد یا حروف بنویس.

۴۰	۱۸	۱۷	۷۹
.....	شصت و هفت

۶۰	۱۵	۷۸
.....	نوزده	پنجاه و نه




☆ همانند الگو کامل کن.

☆ جدول را کامل کن.

۶	۱	۵	۹	۲	۸	۳	۷
۸	۵	۲	۶	۳	۹	۴	۱
۹	۷	۳	۱	۴	۸	۵	۲
۳	۶	۸	۹	۱	۲	۷	۴
۴	۵	۸	۶	۱	۹	۳	۳
۲	۹	۱	۷	۴	۶	۸	۸
۴	۸	۹	۳	۶	۵	۷	۱
۱	۲	۴	۸	۹	۳	۶	۵
۵	۳	۶	۱	۷	۸	۹	۹



گروه آموزشی گراد





در هر قسمت کلمه‌ای که درست نوشته شده است را انتخاب کن و رنگ بز.



زنده گی	زندگی	زنده	تشنه گی	تشنگی	تشنه	پرنده گان	پرنده گان	پرنده
پاکیزه گی	پاکیزه گی	پاکیزه	راننده گان	رانندگان	راننده	ستاره گان	ستارگان	ستاره

جدول را با توجه به نمونه کامل کن.



گروه آموزشی گراد

کلمه	ها	ان	ات
خاطره	خاطره‌ها	_____	خاطرات
معلم	_____	_____	_____
مثلث	_____	_____	_____
مجله	_____	_____	_____
بچه	_____	_____	_____
درخت	_____	_____	_____



مانند نمونه، در هر ردیف کلمات سمت راست را با رنگ کردن پیدا کن.





یکی بود یکی نبود. در یک روستای کوچک پیرزنی زندگی می کرد که نان می پخت. همه ی اهالی روستا از نان های پیرزن تعریف می کردند.

یک روز



مَشَنگ

در زمان های قدیم، زن بی فکری زندگی می کرد. اسم او مَشَنگ بود. مَشَنگ عادت نداشت اول فکر کند و بعد کاری را انجام دهد. آن روز هم مَشَنگ داشت خانه اش را جارو می زد که ناگهان چشمش به یک سگ افتاد. او سگ را برداشت و گفت: «با این پول یک گوسفند چاق و چله می خرم.»

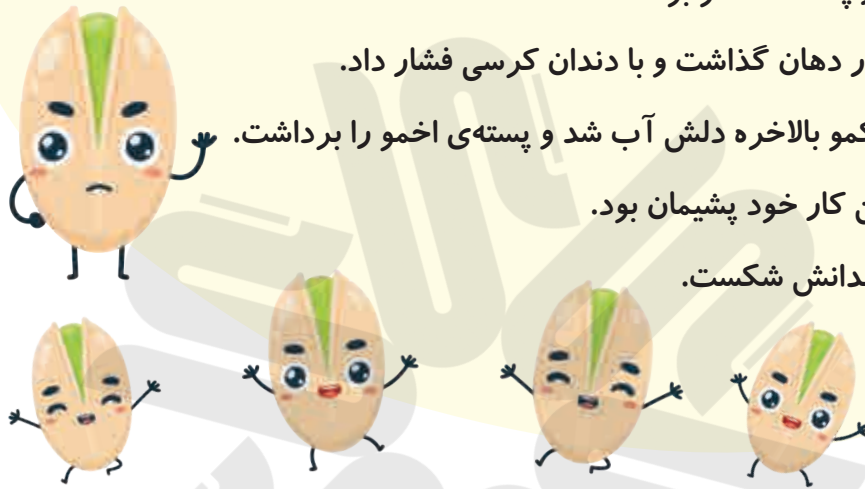
مَشَنگ به بازار رفت و یک گوسفند خرید. نزدیک خانه، مَشَنگ تازه متوجه شد که خانه اش طویله ندارد تا گوسفندش را جا بدهد. برای همین به بازار برگشت. گوسفند را به نصف قیمت فروخت و با پول آن یک گربه خرید و به طرف خانه حرکت کرد. نزدیک خانه، تازه یادش آمد که شیری ندارد تا به گربه اش بدهد. دوباره به بازار برگشت. گربه را به نصف قیمت فروخت و با پول آن یک پرنده خرید و در نزدیکی خانه پرنده از دستش فرار کرد. مَشَنگ به خانه برگشت و دوباره مشغول نظافت شد. او خوب دقت می کرد تا شاید سگ دیگری پیدا کند و این بار چیز بهتری بخرد. ولی هر چه نگاه کرد؛ دیگر خبری از سگ نبود.

پیام داستان را بنویس.



عزیز دلم! جمله‌ها را بخوان ، آن‌ها را مرتب کن و داستان زیبایی بنویس. 

- هیچ کس دوست نداشت پسته ی اخمو را بردارد.
- همه ی پسته‌ها خندان و خوش حال بودن و راحت باز می شدند.
- همه ی پسته‌ها تمام شد فقط پسته ی اخمو در ظرف مانده بود.
- امّا یکی از پسته‌ها اخمو بود.
- پسته را در دهان گذاشت و با دندان کرسی فشار داد.
- بچه ی شکمو بالاخره دلش آب شد و پسته ی اخمو را برداشت.
- بچه از این کار خود پشیمان بود.
- پسته و دندانش شکست.



A large rectangular area with a red dotted border, containing several horizontal blue dotted lines for writing a story.



با توجه به تصاویر متن را کامل کن.

روزی روزگاری یک  در مزرعه زندگی می کرد. او در مزرعه

در حال گشت و گزار و خوردن دانه بود که  او را دید و آب از

دهانش راه افتاد. سریع به  رفت و به همسرش گفت:

را روی  بگذار. زمانی که  را روی  را روی

حواسش نبود ناگهان او را شکار کرد.  فداکار که شاهد ماجرا

بود، برای نجات  وانمود کرد که پایش شکسته است، و خود را

طعمه قرار داد.

تا  را دید، کیسه ی  را دید، کیسه ی  تا

را رها کرد و به سمت  رفت.  با این کار

فرصت رهایی  را فراهم کرد و خود نیز بالای  را

پر گشود.  طمع کار در این میانه بی نصیب ماند.



جواب عبارت ها را بنویس.

$20 + 10 + 5 =$

$30 + 5 + 5 =$

$50 + 5 - 5 =$

$40 + 10 - 20 =$

$40 + 30 - 10 =$

$20 + 5 + 3 =$



۱۲ کودک سوار چرخ و فلک بودند. ۹ کودک دیگر هم سوار شدند. حالا چند کودک روی چرخ و فلک هستند؟

..... کودک روی چرخ و فلک هستند.

گروه آموزشی گراد



شکل

عبارت

Blank space for drawing the shape of the Ferris wheel.

Blank space for writing the expression for the Ferris wheel problem.

۷ قورباغه در برکه بودند. ۶ قورباغه ی دیگر درون برکه پریدند. ۳ قورباغه از برکه خارج شدند. حالا چند

قورباغه در برکه هستند؟ قورباغه در برکه هستند.

عبارت



Blank space for writing the expression for the frog problem.



با رنگ کردن چینه ها، جواب ها را پیدا کن و بنویس.



$8 + 5 + 3 =$



$9 + 4 + 2 =$





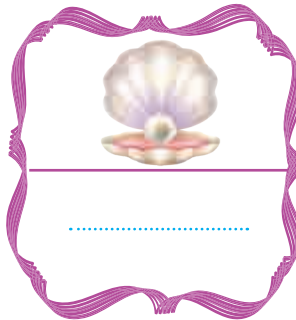
نام تصاویر را بنویس.




گروه آموزشی گراد




.....




.....




.....




.....



.....




.....



.....



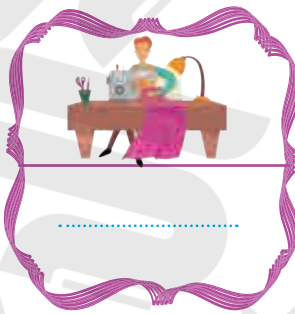
.....




.....



.....



.....




.....




.....




.....




.....



.....



.....



.....



.....



.....



کدام کلمه با بقیه متفاوت است؟

- نوک خورشید خروس روشن

در کدام کلمه نشانه ی (ای ی) دوبار به کار رفته است؟

- پاییز بوییدن پیاز سینی

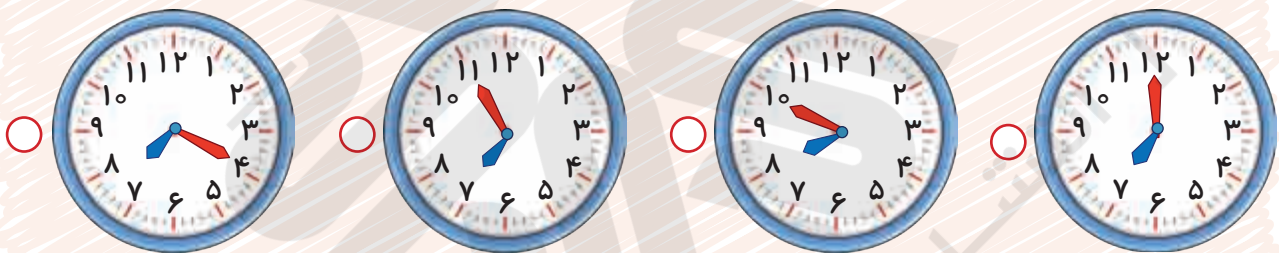
آخر کدام کلمه با بقیه متفاوت است؟

- سفره راننده کلاه کوزه

کدام گزینه با عبارت $۸۰ - ۳۰$ برابر می شود؟

- $۷۰ - ۴۰$ $۹۰ - ۲۰$ $۵۰ + ۱۰$ $۴۰ + ۱۰$

کدام یک از ساعت های زیر کمی به ساعت ۷ مانده است را نشان می دهد؟



اگر ۸ دسته ی ده تایی مداد داشته باشیم و ۲ دسته ی ده تایی و ۵ یکی را برداریم چند مداد باقی می ماند؟

- ۶۵ ۵۵ ۶۰ ۵۰

کدام وسیله مربوط به گذشته نیست؟

- اتوی ذغالی کرسی چراغ فانوس چراغ مطالعه

اولین لامپ چند سال پیش اختراع شد؟







- ۱۰۰ سال ۲۰۰ سال ۴۰۰ سال ۳۰۰ سال

کدام گزینه نور بیشتری داشته و دود ندارد؟

- آتش شمع چراغ نفتی لامپ



جدول را حل کرده و رمز آن را با توجه به خانه های رنگی پیدا کن و بنویس.

			■	→	
			■	→	
			■	→	
			■	→	
			■	→	
			■	→	
			■	→	

رمز جدول



یک تابستان شیرین پایه ی اول ورودی به دوم

حاصل جمع ها را بنویس و سپس با توجه به جواب جمع، جاهای خالی را کامل کن.

$$20 + 5 + 5 + 5 = \dots\dots\dots$$

به عدد:

به حروف:

$$20 + 10 + 5 - 5 = \dots\dots\dots$$

به عدد:

به حروف:

$$20 + 30 + 5 + 5 = \dots\dots\dots$$

به عدد:

به حروف:



با توجه به شکل رو به رو مسئله را کامل کرده و به کمک محور حل کن.

علی بادبادک در دست داشت.

..... بادبادک از دستش رها شد و به آسمان رفت.

حالا ؟



نام شکل های زیر را بنویس.




.....

در جدول زیر با مداد زرد ۶ تا ۶ تا، با مداد بنفش ۸ تا ۸ تا و با مداد سبز ۷ تا ۷ تا بشمار و رنگ بزن و عدد های خانه های رنگ شده را در جدول بنویس.

۱	۲	۳	۴	۵	۶	۷	۸	۹	۱۰
۱۱	۱۲	۱۳	۱۴	۱۵	۱۶	۱۷	۱۸	۱۹	۲۰
۲۱	۲۲	۲۳	۲۴	۲۵	۲۶	۲۷	۲۸	۲۹	۳۰
۳۱	۳۲	۳۳	۳۴	۳۵	۳۶	۳۷	۳۸	۳۹	۴۰
۴۱	۴۲	۴۳	۴۴	۴۵	۴۶	۴۷	۴۸	۴۹	۵۰

بنفش	زرد	سبز
.....
.....
.....
.....
.....
.....
.....
.....
.....
.....



در کدام گزینه کلمه‌ها از آخر به اول مرتب نشده است؟ 


- کباب - بابک خیس - سیخ قفس - سقف شیک - کیش

کدام گزینه با بقیه متفاوت است؟ 

- عظمت نظافت حضرت ظلم

املاي کدام کلمه اشتباه است؟ 

- ناظم وضو حوظ ظرف

اگر به عدد چهل، ده تا اضافه شود؛ سپس پنج تا کم شود، جواب عبارت کدام گزینه است؟ 

- ۶۵ ۵۴ ۸۵ ۴۵

نام کدام شکل صحیح نیست؟ 


- دایره مثلث مستطیل شش ضلعی

۲۵ مداد روی میز بود. آموزگار ۱۰ مداد را به زهرا و ۵ مداد را به معصومه داد. چند مداد باقی مانده است؟ 

- ۲۰ ۱۵ ۱۰ ۱۷

آهن ربا کنار کدام یک از لوازم زیر می‌تواند قرار بگیرد؟ 

- تلویزیون دفترچه کامپیوتر تلفن همراه

بزرگترین عدد دو رقمی که مجموع ارقامش ۱۶ باشد؟ 

- ۷۸ ۸۹ ۸۵ ۹۷

کدام گزینه برای عبور عابر پیاده از خیابان صحیح می‌باشد؟ 

- پل عابر ، خط عابر پل عابر ، وسط خیابان
 خط عابر ، وسط خیابان پل عابر ، پیاده رو

به آماده سازی زمین برای کاشت، می‌گویند. 

- کلنگ زدن بیل زدن شخم زدن قلمه زدن

